

به نام خدا

www.moallemshop.com

آزمون ریاضی دوم ابتدایی فصل اول

نام و نام خانوادگی :

فرزندم به سوالات زیر پاسخ مناسب بده.

- با رقم های ۷ و ۸ عدد دو رقمی بنویس.

$$۱۸ - ۹ = \dots$$

- عبارت روبرو را روی محور نمایش بده.



-۳۸ - - - -

-در جای خالی عدد مناسب بنویس.

- شصت و پنج - - - -

شصت و پنج -

- آرمان ۱۵ شکلات دارد. اگر برادرش ۶ شکلات دیگر به او بدهد
آرمان شکلات دارد.

-به رقم و حروف بنویس.

حروفی	عددی	
		رقم یکی ۶ و رقم ده تایی ۳
		رقم یکی ۸ و رقم ده تایی ۹

-حاصل جمع های زیر را بنویس.

$$۴+۱۰+ ۵+۱۰+ ۵+ ۵ =$$

$$۲۰ + ۵ + ۴۰ + ۱۰ + ۴ =$$

با آرزوی موفقیت

سایت تخصصی آموزش ابتدایی

به نام خدا

www.moallemshop.com

نام و نام خانوادگی :

فرزندم به سوالات زیر پاسخ مناسب بده.

- جاهای خالی را کامل کرده و در شکل به تعداد عدد رنگ بزن.

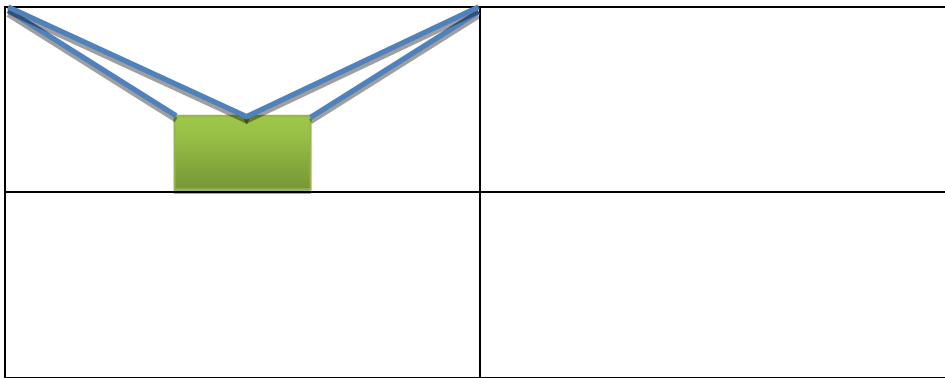
--	--	--	--	--	--	--	--

$$\dots + \dots = 8$$

--	--	--	--	--	--	--	--


$$\dots + \dots = 8$$

-باخط کش شکل را کامل کن.



-جواب ها را با رنگ کردن مثلث ها نشان بده.

$$5 + 6 + 2 + 1 =$$



- الگو عددی زیر را با رسم چوب خط بکش.

$$6 - 12 - 18 - \dots - \dots - \dots$$

با آرزوی موفقیت

سایت تخصصی آموزش ابتدایی

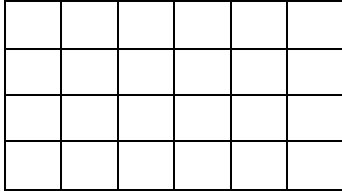
به نام خدا

www.moallemshop.com

نام و نام خانوادگی :

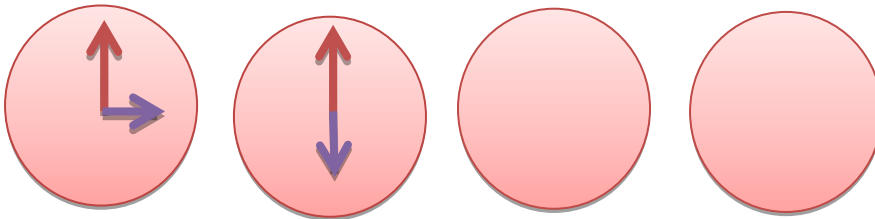
فرزندم به سوالات زیر پاسخ مناسب بده.

- تعداد خانه های شکل زیر را بشمار و کنار آن بنویس.



- با رقم های هشت و شش و صفر عدد های دو رقمی بنویس.

- الگو را ادامه بده.



- جاهای خالی را کامل کن.

..... - ۷۰ - - - - - ۷۵ - ۷۶ - - - -

۳۶ - ۳۷ - - - - - - - - - ۴۷

- ابوعلی سینا از بزرگ ایران بود.

- من نوشتن و خواندن ریاضی را دارم.

با آرزوی موفقیت

سایت تخصصی آموزش ابتدایی

به نام خدا

www.moallemshop.com

آزمون ریاضی دوم ابتدایی فصل دوم

نام و نام خانوادگی :

فرزندم به سوالات زیر پاسخ مناسب بده.

-اگر بیشترین و کمترین عدد یک رقمی با هم جمع شوند حاصل می شود.

-با رقم های صفر و پنج برای یکی ها و هشت و نه برای ده تایی ها عددهای دو رقمی بنویس.

عدد دو رقمی	یکی	ده تایی

-الگوهای عددی را ادامه بده.

۳۵ - ۳۶ - ۳۷ - - - - -

۵ - ۸ - ۱۱ - - - - -

-جمع های ترکیبی عدد هشت را بنویس.

۰	۱	۲	۳	۴	۵	۶	۷	۸
۸					۳			
۸	۸	۸	۸	۸	۸	۸	۸	۸

-حاصل جمع و تفریق را بدست بیاور.

$$\begin{array}{r} 78 \\ + 24 \\ \hline \end{array} \quad \begin{array}{r} 35 \\ + 52 \\ \hline \end{array} \quad \begin{array}{r} 27 \\ + 24 \\ \hline \end{array} \quad \begin{array}{r} 64 \\ + 35 \\ \hline \end{array}$$

- عدد ۶۴ به پنجاه نزدیک تر است یا به شصت؟

عدد ۸۶ به هشتاد نزدیک تر است یا به؟

با آرزوی موفقیت

سایت تخصصی آموزش ابتدایی
گروه های آموزشی ناحیه شش مشهد مقدس (پایه ششم)

به نام خدا

www.moallemshop.com

آزمون ریاضی دوم ابتدایی فصل دوم

نام و نام خانوادگی :

فرزندم به سوالات زیر پاسخ مناسب بده.

- جاهای خالی را کامل کن.

۱	۲	۳	۴	۵	۶	۷	۸	۹	۱۰
۱۱	۱۲	۱۳		۱۵				۱۹	۲۰
۲۱	۲۲			۲۵	۲۶	۲۷			۳۰
۳۱			۳۴	۳۵					۴۰
			۴۴	۴۵					۵۰

- جواب های زیر را به صورت تقریبی بنویس.

$$38 \longrightarrow$$
$$\longrightarrow$$

$$63 \longrightarrow$$
$$\underline{27} \longrightarrow$$

$$- 11 +$$

- پاسخ جمع و تفریق ها را حساب کن.

ده تایی ده تایی

$$7 + 6 =$$

ده تایی ده تایی

$$8 - 2 =$$

ده تایی ده تایی

$$5 + 9 =$$

ده تایی ده تایی

$$6 - 6 =$$

- جاهای خالی را کامل کن.

		
	-		+

با آرزوی موفقیت

سایت تخصصی آموزش ابتدایی