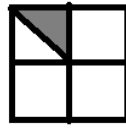
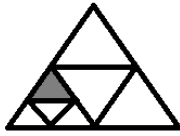
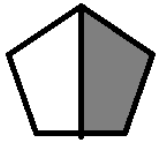


۱- از هر شکل چه کسری رنگ شده است؟



۲- بارسم محور مناسب، هریک از عبارت های زیر را با یک عدد مخلوط بیان کن.

$$\frac{2}{3} \text{ واحد قبل از عدد } 3$$

$$\frac{1}{2} \text{ واحد بعد از عدد } 1$$

۳- برای کسر سمت راست، یک کسر مساوی بنویس و کسر سمت چپ را ساده کن.

$$\frac{16}{24}$$

$$\frac{2}{9} =$$

۵- کسرهای زیر را باهم مقایسه کن و علامت مناسب بگذار.

$$\frac{3}{7} \square \frac{4}{9}$$

$$\frac{5}{7} \square \frac{2}{14}$$

۶- حاصل جمع و تفریق های زیر را به دست بیاور.

$$\frac{5}{8} - \frac{1}{4} =$$

$$\frac{4}{5} + \frac{1}{10} =$$

۷- فرزانه ۴۸ مداد داشت. $\frac{2}{8}$ مدادهایش را به آتنا داد.

او چند مداد به آتنا داده است؟

چند مداد برای خودش باقی مانده است؟

۸ - حاصل ضرب زیر را با گسترده نویسی عدد اول، به دست بیاور.

$$\begin{array}{r} 823 \\ \times 24 \\ \hline \end{array}$$

۹ - مقدار تقریبی هریک از اعداد زیر را با تقریب رقم هزارگان بنویس.

۵۴۵۶۱۲

۵۶۳۲

۹۷۱

۱۰ - اگر بخواهیم ۶۲ نان را بین ۷ نفر به طور مساوی تقسیم کنیم به هر نفر چند نان می رسد و چندتا نان باقی می ماند؟

$$24 \times 18$$

۱۱ - مقدار تقریبی ضرب مقابل، با کمترین خطا چند می شود؟

www.moallemshop.com

۱۲ - تقسیم های زیر را انجام بده. رابطه ی تقسیم را بنویس و به سوال آن ها پاسخ بده .

$$\begin{array}{r} 54 \overline{) 7} \\ \hline \end{array}$$

$$\begin{array}{r} 896 \overline{) 24} \\ \hline \end{array}$$

***۱۳ - ۴۵ گروه ۱۲ نفری از سربازان را در چادرهای ۲۷ نفره ، اسکان می دهیم .

چند چادر برای سرباز ها نیاز داریم؟