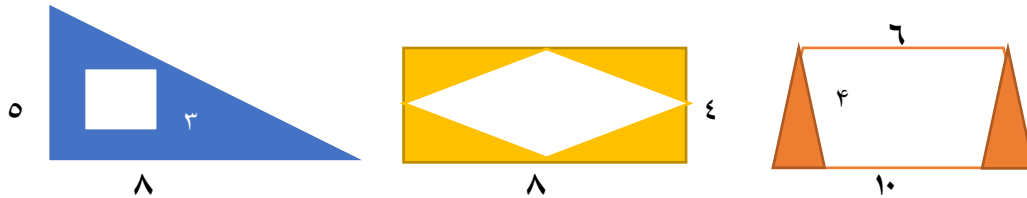


ردیف

شرح سوالات

عزیزانم !!!! مساحت قسمت رنگی در شکل های زیر را محاسبه کنید.



۱

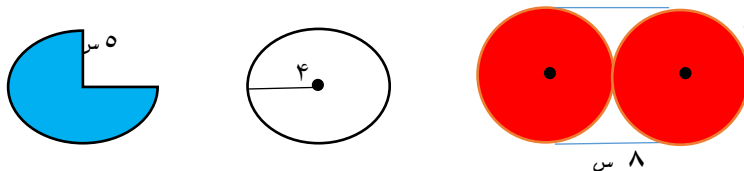
۲ مساحت یک لوزی ۸۰ سانتی متر مربع است. اگر قطر بزرگ آن ۱۶ سانتی متر باشد. اندازه ی قطر دیگر را به دست آورید.

۲

۳ محیط یک لوزی با محیط یک مستطیل برابر است. اگر مساحت مستطیل ۳۲ سانتی متر مربع و طول آن ۸۰ میلی متر باشد، اندازه ی ضلع لوزی را به دست آورید.

۳

محیط هر یک از شکل های زیر را محاسبه کنید.





۴

۵ می خواهیم دور زمینی دایره ای شکل به شعاع ۳۰ متر، ۴ ردیف سیم خاردار بکشیم. به چند متر سیم خاردار نیاز داریم؟

۵

۶ دایره ای به قطر ۴ سانتی متر رسم کنید و محیط آن را محاسبه کنید.

۶

	<p>$\frac{2}{3}$ حوضی به شکل زیر پر از آب است. چند لیتر آب در این حوض است؟</p> 	۷
	<p>طول و عرض و ارتفاع یک مکعب مستطیل به ترتیب ۸، ۶ و ۱۲ سانتی متر می باشد. حجم این مکعب مستطیل چند سانتی متر مکعب است؟</p>	۸
	<p>می خواهیم $\frac{7}{5}$ لیتر بنزین را بین ۵ موتورسیکلت به طور مساوی تقسیم کنیم. به هر کدام چند سی سی بنزین می رسد؟</p> 	۹
	<p>ظرفی به شکل مکعب است. اگر هر ضلع آن ۶۰ سانتی متر باشد، گنجایش آن چند لیتر است؟</p>	۱۰
	<p>جاهای خالی را کامل کنید.</p> <p>الف) $\frac{12}{7}$ متر مکعب برابر است با لیتر. ب) ۵۵ سی سی برابر است با متر مکعب.</p> <p>ج) ۴۰ لیتر سانت متر مکعب است. د) $\frac{22}{6}$ لیتر برابر است با سی سی.</p>	۱۱
	<p>۵۰ قطره چه کسری از سی سی است؟</p>	۱۲

موفق و سر بلند باشید.